

むこうしうでだめ

ふるさと向日市腕試しテスト

もんだいしゅう

問題集

★テストを始めるまで、問題集は開封しないでください。

じゅけんじょう ちゅうい

受験上の注意

- 制限時間は60分です。時間を図りながら取り組んでください。
- テストに取り組むに当たり、次に該当する行為は禁止します。
 - ・パソコン、携帯電話、スマートフォン、その他情報端末などを使用する。
 - ・インターネット、録音機器、カメラ、辞書、テキストなどを使用する。
 - ・本人以外が回答する（他人に答えを聞く）。
 - ・その他不正行為

[メ モ]

問題 1

令和^{れいわ}4年^{ねん}は、乙訓郡向日町^{おとくにぐんむこうまち}が市制^{しせい}を施行^{せこう}し「向日市^{むこうし}」となって（ ）周年^{しゅうねん}の記念^{きねん}すべき年^{とし}である。（ ）に入る数字^{はいすうじ}は次のうちどれか？

- ① 30 ② 35 ③ 40 ④ 45 ⑤ 50

問題 2

向日市^{むこうし}の紋章^{もんしょう}には、市^しにまつわるある漢字^{かんじ}をモチーフ^{もといふ}とした模様^{もよう}が描か
れているが、次^{つぎ}のうちどれか？

- ① 向^{むかう} ② 筍^{たけのこ} ③ 田^た ④ 竹^{たけ} ⑤ 日^ひ

問題 3

向日市^{むこうし}のシンボルカラー^{しんぼるかるー}は次のうちどれか？

- ① レモンイエロー ② ライムグリーン ③ スカイブルー
④ ロイヤルパープル ⑤ ワインレッド

問題 4

向日市^{むこうし}は西日本^{にしにほん}で何番目^{なんばんめ}に面積^{めんせき}が小さいか？

- ① 1番目^{ばんめ} ② 2番目^{ばんめ} ③ 3番目^{ばんめ}
④ 4番目^{ばんめ} ⑤ 5番目^{ばんめ}

問題 5

向日市には西部一帯に標高35メートルから80メートルの丘陵が南北に細長く横たわっており、丘陵の竹林から多くのタケノコが産出されている。この丘陵の名称は次のうちどれか？

- ① 向日丘陵 ② 西山丘陵 ③ 洛西丘陵
④ 乙訓丘陵 ⑤ 寺戸丘陵

問題 6

向日市と長岡京市の市境を流れる川は次のうちどれか？

- ① 桂川 ② 小畑川 ③ 宇治川
④ 淀川 ⑤ 由良川

問題 7

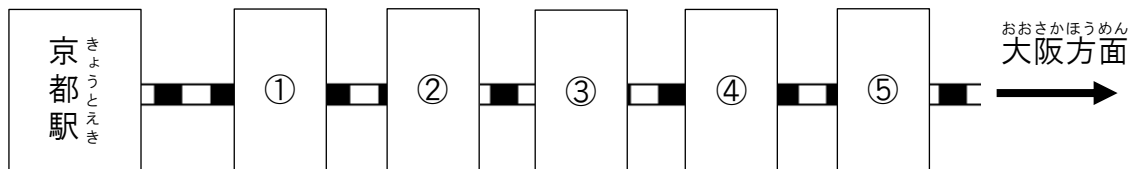
向日市域を通る鉄道は次のうちどれか？

- ① 南海本線 ② 東海道新幹線 ③ 近鉄京都線
④ 京阪本線 ⑤ 阪急嵐山線

問題 8

JR向日町駅は①～⑤のうちどれか？

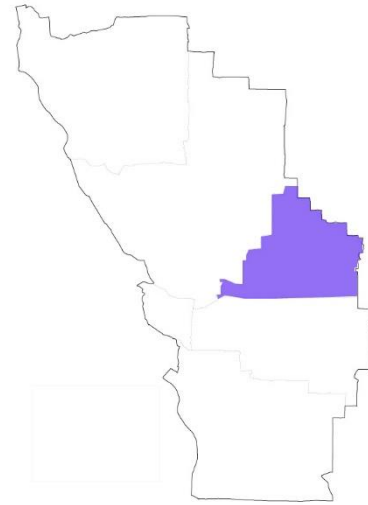
JR東海道本線 (JR京都線)



問題 9

右の図で塗りつぶされている町（区）は次のうちどれか？

- ① 物集女町
- ② 寺戸町
- ③ 森本町
- ④ 鶏冠井町
- ⑤ 上植野町



向日市

問題 10

向日市の地名で「堂ノ前」という地名があるのは、上植野町とどこか？

- ① 物集女町
- ② 寺戸町
- ③ 森本町
- ④ 鶏冠井町
- ⑤ 向日町

問題 11

向日市の地名で実際にはないのは次のうちどれか？

- ① 三ノ坪
- ② 四ノ坪
- ③ 五ノ坪
- ④ 六ノ坪
- ⑤ 七ノ坪

問題 12

向日市にある地名「竹図子」の読み方として正しいものは次のうちどれか？

- ① たけとこ
- ② とけとね
- ③ たけずし
- ④ ちくずし
- ⑤ ちくずこ

問題 13

向日市にある地名「久々相」の読み方として正しいものは次のうちどれか？

- ① ひさびさそう ② ひさしそう ③ くぐあい
④ くぐそう ⑤ ひさびさあい

問題 14

昭和52年に制定された「向日市民の花・木」として誤っているものは次のうちどれか？

- ① ひまわり ② モウソウチク（孟宗竹） ③ かえで
④ サクラ ⑤ ツツジ

問題 15

向日市と姉妹都市盟約を結んでいるサラトガ市は、どの国の都市か？

- ① イタリア ② イギリス ③ アメリカ合衆国
④ タイ ⑤ カナダ

問題 16

向日市が友好交流協議書を締結している中華人民共和国浙江省の都市は次のうちどれか？

- ① 杭州市 ② 広州市 ③ 北京市
④ 上海市 ⑤ 天津市

問題 17

向日市と京都市が調印した「京都市・向日市相互交流宣言」は、()
にあたる年に行われた。()に入るものは次のうちどれか？

- ① 向日町成立400年
- ② 向日神社遷座1300年
- ③ 京都市市制施行150年
- ④ 京都市・向日市交流開始20年
- ⑤ 長岡京遷都1230年・平安京遷都1220年

問題 18

昭和55年に市民公募により作られ、タ・カーポにより歌われて現在も市民
に親しまれている曲のタイトルは次のうちどれか？

- ① わたしの向日市
- ② ずっとふるさと
- ③ おもいで向日市
- ④ ともだち向日市
- ⑤ わたしのふるさと

問題 19

平成28年3月に策定した「ふるさと向日市創生計画」は、市の()に
おける最上位計画である。()に入るものは次のうちどれか？

- ① 子育て支援
- ② 障がい者支援
- ③ 観光戦略
- ④ まちづくり
- ⑤ 選挙管理

問題 20

向日市は「ふるさと向日市」に対する愛着を高めるため、歴史・文化を生かしたまちづくりの指針として「()計画」を策定し、平成27年に全国で47番目に国から認定を受けた。()に入るものは次のうちどれか？

- ① 向日市文化的地域発展
- ② 向日市文化的景観改善
- ③ 向日市歴史的風致維持向上
- ④ 向日市歴史的アート創造
- ⑤ 向日市歴史文化まちづくり

問題 21

向日市内には、「乙訓古墳群」として国の史跡に指定されている古墳がいくつあるか？

- ① 1 ② 5 ③ 10 ④ 15 ⑤ 100

問題 22

五塚原古墳は、向日市役所本館の北方、寺戸町の()の西側にある。()に入るものは次のどれか？

- ① 主池 ② はりこ池 ③ 行者池
- ④ 大池 ⑤ バッチ池

問題 23

市内にある古墳のうち、最も大きい古墳である寺戸大塚古墳の全長は次のうちどれか？

- ① 5m ② 20m ③ 40m
④ 98m ⑤ 120m

問題 24

卑弥呼の墓との説がある箸墓古墳（奈良県桜井市）と形が類似していることがわかった古墳で、前方部の形は三味線のバチに似ているため「バチ形」と呼ばれており、前方後円墳出現期の古墳であることを表している古墳は次のうちどれか？

- ① 五塚原古墳 ② 妙見山古墳 ③ 物集女車塚古墳
④ 元稻荷古墳 ⑤ 南条古墳

問題 25

向日町にある元稻荷古墳の形状は次のうちどれか？

- ① 前方後円墳 ② 円墳 ③ 前方後方墳
④ 方墳 ⑤ 双方中円墳

問題 26

次の古墳のうち、直径23.5メートルほどある通称「二校前古墳」と呼ばれる円墳は次のうちどれか？

- ① 南条古墳 ② 北山古墳 ③ 元稻荷古墳
④ 妙見山古墳 ⑤ 五塚原古墳

問題 27

毎年、期間限定で石室の内部を一般公開している古墳は次のうちどれか？

- ① 五塚原古墳 ② 寺戸大塚古墳 ③ 物集女車塚古墳
④ 長野古墳 ⑤ 南条古墳

問題 28

水路跡から人面付きの壺形土器が見つかったことで有名な遺跡は次のうちどれか？

- ① 北山遺跡 ② 芝山遺跡 ③ 向日遺跡
④ 森本遺跡 ⑤ 上野原遺跡

問題 29

桓武天皇が都を長岡京に遷都した理由として正しいものは次のうちどれか？

- ① 水陸交通の便がよかった ② 農業が発達していた
③ 商業が盛んであった ④ 医療が進歩していた
⑤ 気候が温暖であった

問題 30

長岡京の政治の中心であった場所は現在のどの辺りか？

- ① 向日市役所本館周辺 ② 向日市文化資料館周辺
③ JR向日町駅周辺 ④ 阪急東向日駅周辺
⑤ 阪急西向日駅周辺

問題 31

朝堂院は、長岡京時代いくつの棟（建物）で構成されていたか？

- ① 1つ ② 2つ ③ 4つ ④ 8つ ⑤ 16つ

問題 32

長岡宮の中央にある国家的な儀式を行う場所で、現在の国会議事堂に相当する建物は次のうちどれか？

- ① 大極殿 ② 築地 ③ 朝堂院
④ 東院 ⑤ 大蔵

問題 33

長岡京の時代には文字の記録をつかさどる下級官人が働いており、紙の代用品である（ ）が遺跡から多数発見された。（ ）に入るものは次のうちどれか？

- ① 木簡 ② 瓦 ③ 漆 ④ 鋳型 ⑤ 土器

問題 34

長岡京時代、都の第二次造宮においてこの写真の瓦の生産が始まったが、この瓦の名称は次のうちどれか？

- ① 京式焼瓦 ② 向日式屋根瓦
③ 都風貴族瓦 ④ 平城式庇瓦
⑤ 長岡宮式軒瓦



問題 35

ながおかきょうじだい かんじん くらい おう ふくそう こま き
長岡京時代、官人はその位に応じて服装が細かく決められていたが、この
ふくそう かん きてい めいしやう つぎ
服装に関する規定の名称は次のうちどれか？

- ① 冠位十二階 ② 衣服令 ③ 被服法
④ 平服法 ⑤ 服飾規定

問題 36

む こうし すいでん ながおかきやう へいあんきやう みやこ うつ のち ふたた のうち
向日市の水田には、長岡京から平安京に都が遷された後に再び農地と
して整備された一辺約109メートル四方を坪、36の坪で里とする形で、
しゃしん くかくわ こうち のこ
写真のように区画割りがされた耕地が残されているところがある。このよう
な土地区画制度は次のうちどれか？

- ① 条里制
② 区分田
③ 均田制
④ 碁盤の目
⑤ 荘園



問題 37

まぼろし みやこ ながおかきやう けんきやう と く しょざいち かくてい
「幻の都」といわれていた長岡京の研究に取り組み、所在地を確定す
はくつちやうさ おこな じんぶつ つぎ だれ
る発掘調査を行った人物は次のうち誰か？

- ① 吉井 秀夫 ② 中山 修一 ③ 山本 新次郎
④ 吉村 作治 ⑤ 近藤 義郎

問題 38

西国街道は（ ）を起点とし、向日市を通過して摂津西宮、さらに中国・九州の西国へと至る。（ ）に入るものは次のうちどれか？

- ① 東寺口 ② 鞍馬口 ③ 西寺跡
④ 吉祥院天満宮 ⑤ 久世橋

問題 39

江戸時代初期に僧侶の学問所である「檀林」が現在の鶏冠井町に開講されたが、この檀林時代の講堂は、現在の（ ）の本堂にあたり、今も当時の面影を残している。（ ）に入るものは次のうちどれか？

- ① 北真経寺 ② 南真経寺 ③ 石塔寺
④ 向日神社 ⑤ 乙訓寺

問題 40

毎年5月3日に行われる「花まつり」に鶏冠井題目踊が奉納される寺院は次のうちどれか？

- ① 石塔寺 ② 来迎寺 ③ 北真経寺
④ 向日寺 ⑤ 石山寺

問題 41

鎌倉時代末期に京での布教活動を禁止された日像上人が、向日神社の前で説法を行った際に腰掛けていたと伝えられるこの石の名称は次のうちどれか？



- ① 説法石
- ② 日像石
- ③ 向日石
- ④ 鶏冠井石
- ⑤ 日蓮石

問題 42

西国街道沿いにある旧家のひとつである「中小路家」の説明として誤っているものは次のうちどれか？

- ① 屋号を若葉屋という
- ② 江戸時代から明治時代の旧家である
- ③ 主屋が喫茶スペースとして活用されている
- ④ 平成20年に国登録有形文化財に指定された
- ⑤ 上植野村聖護院門跡領の庄屋であった

問題 43

明治43年に建設された「旧上田家住宅」は、市民文化の発展に寄与することを目的に整備され、令和3年11月に開館したが、施設内に備えていない設備は次のうちどれか？

- ① かまど
- ② 座敷
- ③ 茶室
- ④ 囲炉裏
- ⑤ ギャラリー

問題 44

むこうしてらどちようはつだ　はんきゆうひがしむこうえきか　ししていゆうけいみんぞくぶんかざい
向日市寺戸町初田、阪急東向日駅近くにある市指定有形民俗文化財のこ
じょうやとう　なまえ　つぎ
の常夜灯の名前は次のうちどれか？

- ① つきさかこうじょうやとう　築榊講常夜燈
- ② あたごとうろう　愛宕灯籠
- ③ えいだいじょうやとう　永代常夜灯
- ④ いつつじじょうやとう　五辻常夜灯
- ⑤ こんびらこうとうろう　金毘羅講灯籠



問題 45

おだのぶなが　くせもの　ひょう　ほそかわふじたか　あんさつ　とうじ　おとくに
織田信長から曲者と評され、細川藤孝によって暗殺された、当時の乙訓
ちいき　ゆうりよく　ぶし　つぎ　だれ
地域で有力であった武士は次のうち誰か？

- ① のだだんじょうのちゆうやすただ　野田弾正忠泰忠
- ② もずめただしげにゆうどうそうにゆう　物集女忠重入道宗入
- ③ かいはちろうじろうまさもり　鶏冠井八郎次郎雅盛
- ④ あげち　みつひで　明智　光秀
- ⑤ とよとみ　ひでよし　豊臣　秀吉

問題 46

せんごくじだい　むこうし　ちゅうしん　おとくにちいき　おさ　もずめし　か
戦国時代、向日市を中心とする乙訓地域を治めていた「物集女氏」や「鶏
いでし
冠井氏」などのリーダーの武士たちは何と呼ばれていたか？

- ① にしのおかしようぐん　西岡将軍
- ② にしやましゆう　西山衆
- ③ にしのおかしゆう　西岡衆
- ④ さいごくしゆう　西国衆
- ⑤ にしやまぶし　西山武士

問題 47

向日市と長岡京市の境に架かる一文橋は、中世の時代には通行人から一文ずつ徴収して橋の架け替えの費用に充てたとの伝承があるが、たびたび橋の架け替えが必要であった理由は何か？

- ① 通行人が増加するたび拡幅が必要であった
- ② 地元の反対でたびたび場所を変える必要があった
- ③ 戦乱により何度も橋が破壊された
- ④ 洪水により何度も橋が流された
- ⑤ 架け方がずさんで橋がすぐに壊れた

問題 48

向日市の無形民俗文化財に指定されている鶏冠井伝統の子どものみこしが地区内を巡行するまつりは「鶏冠井（ ）」という。（ ）に入るものは次のうちどれか？

- ① ジュンコウ
- ② シャナンボウ
- ③ シャチホコ
- ④ シュリジョウ
- ⑤ ショウゲン

問題 49

昌泰4年(901年)に左大臣・藤原時平によって太宰府に左遷された際、寺戸の千代桜天満宮に立ち寄り、京の都に思いを馳せたとされる人物は次のうち誰か？

- ① 卑弥呼
- ② 藤原鎌足
- ③ 平将門
- ④ 豊臣秀吉
- ⑤ 菅原道真

問題 50

500年ねん以上いじょう前まえ、応仁おうにんの乱らんで都みやこ落ちおした姫ひめが川かわに琴ことをかけて無事ぶじ逃げ延びのびたという言い伝えい つたえがある「琴の橋」は、現在のどの場所ばしょ付近ふきんにあったか？

- ① 上植野浄水場かみうえのじょうすいじょう
- ② JR向日町駅むこうまちえき
- ③ 第1保育所だいほいくしよ
- ④ 第4向阳小学校だいこうようしょうがっこう
- ⑤ 向日町警察署むこうまちけいさつしよ

問題 51

天正20年てんしょうねん（1592年）に向日前新町むこうまえしんちょうの建設けんせつを認める3か条みとの定書じょうさだめがきを下くだした当時の京都所司代とうじきょうとしよしだいは次のうち誰か？

- ① 前田玄以まえだげんい
- ② 織田信長おだのぶなが
- ③ 明智光秀あけちみつひで
- ④ 石田三成いしだみつなり
- ⑤ 徳川家康とくがわいえやす

問題 52

国の重要文化財くにじゅうようぶんかざいである向日神社本殿むこうじんじやほんでんの建築様式けんちくようしきは次のうちどれか？

- ① 一間社流造いっけんしゃながれづくり
- ② 二間社流造にけんしゃながれづくり
- ③ 三間社流造さんけんしゃながれづくり
- ④ 四間社流造よんけんしゃながれづくり
- ⑤ 五間社流造ごけんしゃながれづくり

問題 53

国の重要文化財くにじゅうようぶんかざいである向日神社本殿むこうじんじやほんでんが建立こんりゆうされた時代じだいは次のうちどれか？

- ① 飛鳥時代あすかじだい
- ② 奈良時代ならじだい
- ③ 平安時代へいあんじだい
- ④ 鎌倉時代かまくらじだい
- ⑤ 室町時代むろまちじだい

問題 54

向日神社で執り行われる祭礼・行事のひとつで、氏子の各地区が農繁期を除く毎月6日に交替で神前に餅を供える行事の名称は次のうちどれか？

- ① さかえもち ② かみもち ③ しろもち
④ さっぺい ⑤ はんぺい

問題 55

向日神社では、神社から上植野町にある御旅所まで巡行する(A)(通称おいで)と、御旅所から神社までを巡行する(B)(通称おまつり)が、毎年5月に行われている。A、Bに当てはまるものとして正しい組み合わせは次のうちどれか？

- ① (A) 神幸祭 (B) 還幸祭
② (A) 還幸祭 (B) 神幸祭
③ (A) 往路祭 (B) 復路祭
④ (A) 厄払祭 (B) 幸福祭
⑤ (A) 幸福祭 (B) 厄払祭

問題 56

平成6年に創設された、太鼓の胴の部分に竹を使った全国でも珍しい和太鼓は次のうちどれか？

- ① 近畿太鼓 ② 京都太鼓 ③ 向日町太鼓
④ 向日かぐや太鼓 ⑤ ふるさと太鼓

問題 57

向日市のタケノコは肉質が厚く、中でも皮の()いタケノコは最高級品である。()に入るものは次のうちどれか？

- ① 茶色 ② 赤 ③ 白 ④ 黒 ⑤ 黄色

問題 58

向日市商工会青年部が毎年冬に開催している市特産の竹を使った催しは次のうちどれか？

- ① タケノコ掘り体験 ② 流しそうめん
③ タケノコ料理教室 ④ 竹クイズ大会
⑤ たけうま全国大会

問題 59

向日市の竹林には、散策道「竹の径」が整備されているが、令和4年1月現在の「竹の径」の竹垣は何種類か？

- ① 2種類 ② 4種類 ③ 6種類
④ 8種類 ⑤ 10種類

問題 60

「竹の径」の総延長は何キロメートルか？

- ① 1.0 ② 1.2 ③ 1.6
④ 1.8 ⑤ 2.0

問題 61

「竹の径」が整備された目的は大きく2つあるが、新たな観光資源の創造と
もうひとつは何か？

- ① 少子高齢化対策 ② 交通安全対策 ③ 健康増進対策
④ 放置竹林対策 ⑤ 地球温暖化対策

問題 62

「竹の径」を構成する竹垣には、向日市の地区（町）名にちなんだ竹垣が
2つあるが、「寺戸垣」ともうひとつは何か？

- ① 物集女垣 ② 森本垣 ③ 鶏冠井垣
④ 向日垣 ⑤ 上植野垣

問題 63

竹の径にある竹垣のうち、選別した竹の枝の
ボリュームを十分に生かした写真の竹垣は次
のうちどれか？



- ① かぐや垣 ② 古墳垣
③ 海道垣 ④ 竹穂垣
⑤ 向日垣

問題 64

タケノコと並んで向日市の特産品として知られる野菜は次のうちどれか？

- ① タマネギ ② なす ③ きゅうり
④ ブロッコリー ⑤ さつまいも

問題 65

つぎ つぎ しゃしん のうち、市の特産品 し とくさんひん はどれか？

①



②



③



④



⑤



問題 66

めいじ めいじ ねん 41年(1908年)に市域北部 ねん しいきほくぶ の水田 すいでん を利用して米 りよう の品種改良 こめ ひんしゆかいりよう の研究 けんきゆう が行われ、現在の おこな コシヒカリ げんざい の起源 きげん ともなる米 こめ が誕生 たんじよう した。その米 こめ の名称 めいしよう は次のうちどれか？

- ① あさひまい 旭米 ② むこうまい 向日米 ③ のぞみまい 望米 ④ しんまい 新米 ⑤ おとくにまい 乙訓米

問題 67

へいせい へいせい ねん 30年3月に市内事業 が 者 し ない じぎようしや が市特産 し とくさん の竹 たけ を使用 し して歴史 れきし まちづくり むこうしれき のシンボル むこうしれき となる「向日市歴 むこうしれき まちPR はい ロゴ はんばい マーク」が入 はい った() かいし の販売 はんばい を開始 かいし した。() はい に入る つぎ ものは次のうちどれか？

- ① ふく 服 ② メガネ ③ いえ 家
④ ピンバッジ ⑤ くつ 靴

問題 68

「竹の径・かぐやの夕べ」で使用する竹行灯は、次のうちどの方法で作製されているか？

- ① 竹を扱う事業者から購入している
- ② 京都府から借用している
- ③ ボランティアにより放置竹林から切り出している
- ④ 毎年使いまわししている
- ⑤ 農家から提供してもらっている

問題 69

向日市観光協会のマスコットキャラクターの名前は次のうちどれか？

- ① かぐや姫ちゃん
- ② たけ歩ちゃん
- ③ かぐ子ちゃん
- ④ むこまる
- ⑤ かぐ歩ちゃん



問題 70

向日市の新たな観光まちづくりの拠点としてオープンし、令和3年11月に1周年を迎えた向日市観光交流センターの愛称は次のうちどれか？

- ① 向日観光案内所
- ② むこう観光ステーション
- ③ 道の駅むこう
- ④ ツーリズムセンターむこう
- ⑤ まちてらすMUKŌ

問題 71

きょうとむこうしげきからしやうてんがい 京都向日市激辛商店街のマスコットキャラクターの名前は何か？

- ① からっきー ② ぼやっきー ③ つらっきー
④ あまっきー ⑤ くらっきー

問題 72

むこうし みりよく 向日市の魅力をPRしたい、むこうし おお かがたがた す 向日市を多くの方々に好きになってほしいと
おも へいせい ねん たんじやう つぎ いう思いから平成30年に誕生したキャラクターは次のうちどれか？


①



②




③



④



⑤



問題 73

むこうし しやうこうかい しんがた 向日市商工会は、新型コロナウイルス感染症の影響を受け、()を行
っている飲食店舗を紹介するチラシを作成し、配布している。()に入
るものは次のうちどれか？

- ① しゅつちやうりやうりきやうしつ 出張料理教室 ② あし 足つぼマッサージ
③ けんこうしんだん 健康診断 ④ せいそう 清掃サービス
⑤ テイクアウトや宅配

問題 74

向日市の魅力あふれるスポットや、イベントの様子などを紹介する市公式インスタグラム（写真・動画共有ソーシャル・ネットワーキング・サービス）のアカウント名は次のうちどれか？

- ① kotonomuko
- ② nagaoka_385
- ③ bamboo_muko
- ④ mukomuko784
- ⑤ 6565city

問題 75

気象情報や地震・土砂災害情報、避難関連情報などを市民にお知らせするため実施している市のサービスは次のうちどれか？

- ① 防災情報お知らせメール
- ② 防災無線
- ③ 防災回覧板
- ④ 防災かわら版
- ⑤ 防災伝言板

問題 76

大雨や地震などで想定される被害や市内の避難場所、家庭でできる「災害への備え」などが掲載されている冊子の名称は次のうちどれか？

- ① 向日市災害マップ
- ② 向日市避難所マップ
- ③ 向日市緊急対策マップ
- ④ 向日市安全マップ
- ⑤ 向日市防災マップ

問題 77

向日市の中心を横断する西京高槻線の愛称は次のうちどれか？

- ① 向日街道
- ② 鯖街道
- ③ 竹の径街道
- ④ 高野街道
- ⑤ 物集女街道

問題 78

()の近くには、春になると噴水公園を中心に桜並木がきれいに広がる住宅街がある。()に入るものは次のうちどれか？

- ① JR向日町駅 ② JR桂川駅 ③ 阪急西向日駅
④ 阪急東向日駅 ⑤ 阪急洛西口駅

問題 79

令和元年10月1日から運行がスタートした向日市コミュニティバスの愛称は次のうちどれか？

- ① のってこ向日 ② むこうふれあいバス
③ むこバス ④ ぐるりん向日
⑤ ぐるっとむこうバス

問題 80

向日市にない公園は次のうちどれか？

- ① 市民ふれあい広場 ② 大極殿公園 ③ 大蛇ヶ池公園
④ なかよし公園 ⑤ 勝山公園

問題 81

夏休みに見学会を実施している雨水トンネルは次のうちどれか？

- ① いろは吞龍トンネル ② 石田川1号幹線
③ 寺戸川1号幹線 ④ 桂川1号幹線
⑤ 桂川2号幹線

問題 82

向日市のデザインマンホールに描かれている絵は次のうちどれか？

- ① ツツジ ② 竹 ③ 桜
- ④ ひまわり ⑤ チューリップ

問題 83

上植野浄水場にあるこの配水塔の壁面は、向日市の木である竹をモチーフに形どられているが、この配水塔を上から見ると、向日市に関連の深いあるものに見えるようになっている。あるものとは次のうちどれか？

- ① ツツジ ② 菊 ③ 桜
- ④ ひまわり ⑤ チューリップ



問題 84

向日市では、京都府営水と（ ）で処理した地下水を混合し、市内へ給水している。（ ）に入るものは次のうちどれか？

- ① 寺戸北浄水場 ② 森本浄水場
- ③ 物集女西浄水場 ④ 寺戸西浄水場
- ⑤ 向日町浄水場

問題 85

母子健康手帳や妊婦健康診査の受診券を発行するときに保健師が妊娠・
出産・子育てに関する心配ごとや気になることをお聞きし、安心して出産、
育児ができるようサポートする場として市役所に設置されているものは次の
うちどれか？

- ① 子育てコンシェルジュ
- ② 子育てアドバイザー
- ③ 子育て専門家
- ④ 子育てスーパーバイザー
- ⑤ 子育てマネージャー

問題 86

向日市における高齢者のいきがづくり事業のうち、誤っているものは次
のうちどれか？

- ① 長寿のお祝い
- ② 老人クラブ活動への助成
- ③ 老人福祉センターの設置・運営
- ④ いきがづくり支援センターの設置・運営
- ⑤ シルバー人材センターの活用

問題 87

手話や聞こえに障がいのある方の暮らしへの理解を広げることを目的に、
特に若い人たちに親しみやすい方法で啓発できるよう向日市が制作したもの
は次のうちどれか？

- ① 手話検定
- ② 手話マンガ
- ③ 手話ノート
- ④ 手話ロボット
- ⑤ 手話Tシャツ

問題 88

向日市議会には、定例会と臨時会があるが、定例会は年何回開かれるか？

- ① 3回 ② 4回 ③ 5回 ④ 6回 ⑤ 7回

問題 89

向日市には、(A)つの市立小学校と(B)つの市立中学校がある。A、Bに当てはまるものとして正しい組み合わせは次のうちどれか？

- ① (A) 1 (B) 1
② (A) 4 (B) 2
③ (A) 6 (B) 3
④ (A) 8 (B) 4
⑤ (A) 10 (B) 5

問題 90

向日市天文館のこのキャラクターの名前は次のうちどれか？

- ① ひかるくん
② 星矢くん
③ アストロくん
④ 輝夜くん
⑤ てんもんくん



問 題 91

向日市文化資料館では、市内で発掘された当時の遺物や、当時の人々の衣服や食事を再現したものを常設展示しているが、どの時代のものか？

- ① 古墳時代 ② 縄文・弥生時代 ③ 長岡京時代
④ 安土・桃山時代 ⑤ 戦国時代

問 題 92

令和3年10月に日英同時通訳でオンラインでも配信された国際シンポジウム「20世紀の（ ）－寿岳文章 人と仕事－」が開催された。（ ）に入るものは次のうちどれか？

- ① 英文学 ② 書物 ③ 長岡京
④ 和紙 ⑤ 向日町

問 題 93

向日市立図書館で貸し出していないものは次のうちどれか？

- ① 本 ② 雑誌 ③ CD ④ 紙芝居 ⑤ 古文書

問 題 94

向日市内にある施設として誤っているものは次のうちどれか？

- ① 向日町警察署 ② 乙訓保健所
③ 向日町郵便局 ④ 向日町簡易裁判所
⑤ 京都西年金事務所

問題 95

平成30年7月に京都向日町競輪場前にオープンした()は誰もがいきいきと暮らせる向日市の実現を目指し整備されたもので、市民活動などを支援するため会議室やミーティングルームなどを備え、コワーキングルームの提供やお試しオフィススペースの活用ができる。()に入るものは次のうちどれか？



- ① 向日市保健センター
- ② 向日市観光交流センター
- ③ 向日市科学技術センター
- ④ 向日市ファミリーサポートセンター
- ⑤ 向日市女性活躍センター

問題 96

ごみの減量とリサイクル率の向上を図るため、令和2年に向日市役所西側に新たに整備されたものは次のうちどれか？

- ① 土のうステーション
- ② 資源物回収ステーション
- ③ 洗車機
- ④ ゴミ焼却所
- ⑤ 大型ごみ捨て場

問題 97

毎年夏に、平和と人権をテーマに映画上映や講演会などが実施されている事業は次のうちどれか？

- ① 向日市まつり
- ② 向日市民平和と人権のつどい
- ③ 竹の径・かぐやの夕べ
- ④ 向日市民文化展
- ⑤ 向日市敬老会

問題 98


向日市民体育館内にある歴史文化交流センターでは、向日市内の遺跡から発掘された（ ）が多数展示されており、夏休みには（ ）の入れ替えが公開で行われている。（ ）に共通して入るものは次のうちどれか？

- ① 銅鐸 ② 勾玉 ③ 木簡 ④ 瓦 ⑤ 土器

問題 99

「むこまる」は、何のシンボルマークか？

- ① こども虐待防止
② 向日市民憲章
③ 向日市男女共同参画プラン
④ 向日市食育推進計画
⑤ 「明るい選挙」啓発



むこまる

問題 100

京都府内で最も早く開業した鉄道の駅である向日町駅は、何年に開業したか？

- ① 明治9年 ② 大正9年 ③ 昭和9年
④ 平成9年 ⑤ 令和9年

～問題は以上です。お疲れさまでした。～

※問題に掲載している祭事・行事などの名称は地域により呼び名が異なる場合があります。

【ふるさと向日市腕試しテスト】

せいさく むこうし そうせいすいしんぶ きかくこうほうか
制作 : 向日市ふるさと創生推進部企画広報課

ほんもんだいしゅう きよか むだん てんさい きんし
※本問題集を許可なく無断で転載することなどを禁止します。